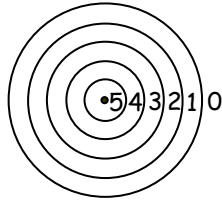
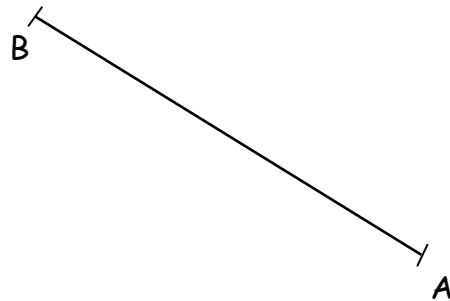
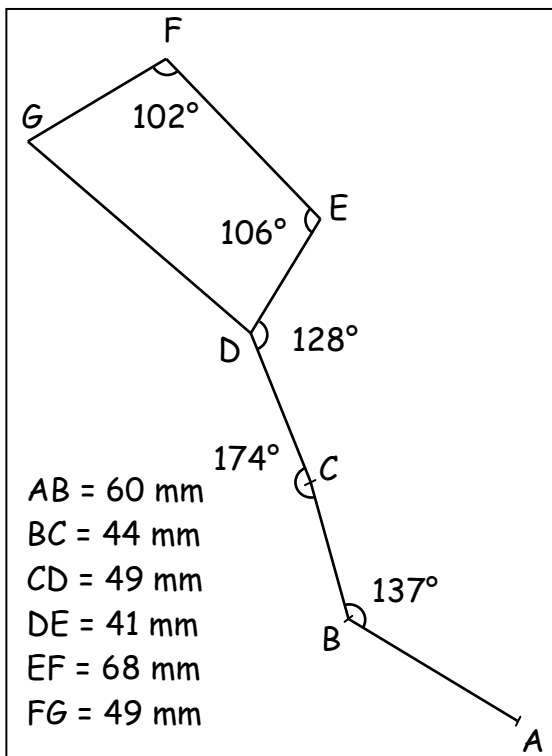


## LA GRANDE OURSE et LE RAPPORTEUR



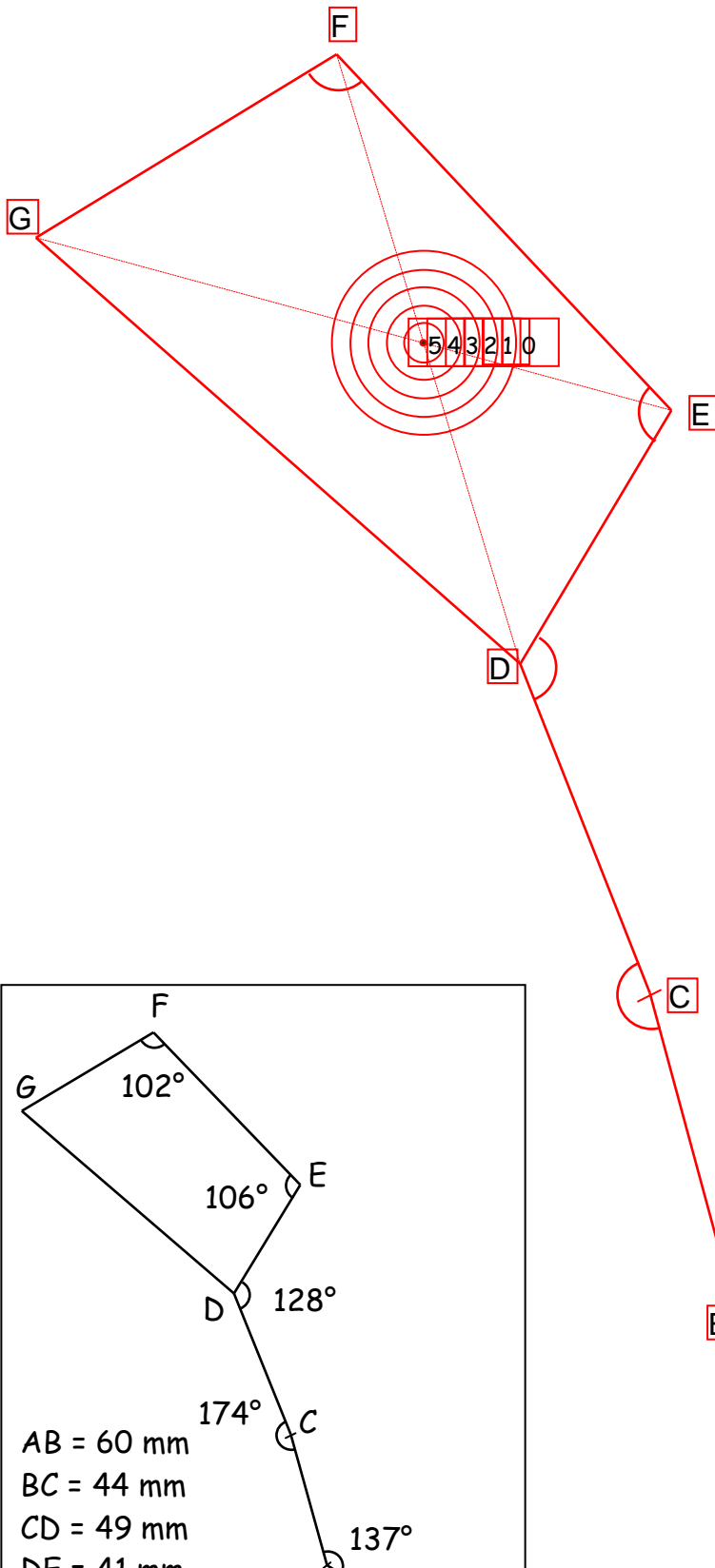
En bas et à gauche de cette feuille se trouve une figure (c'est la Grande Ourse). Reproduis-la avec ta règle graduée et ton rapporteur en ne tenant compte que des indications portées sur la figure.

- Nous avons déjà reproduit le segment  $[AB]$ . Continue en partant de B.
- Lorsque tu auras fini, trace les diagonales du quadrilatère  $DEFG$ . Elles se coupent en un point qui doit tomber au centre de la cible si tes tracés sont précis.



# CORRECTION

## LA GRANDE OURSE et LE RAPPORTEUR



En bas et à gauche de cette feuille se trouve une figure (c'est la Grande Ourse). Reproduis-la avec ta règle graduée et ton rapporteur en ne tenant compte que des indications portées sur la figure.

- Nous avons déjà reproduit le segment [AB]. Continue en partant de B.
- Lorsque tu auras fini, trace les diagonales du quadrilatère DEFG. Elles se coupent en un point qui doit tomber au centre de la cible si tes tracés sont précis.

